

## Классный тур «Знаток математики» 2 класс, январь

1. Заполни пустые клетки

100 → 92 → 84 → 76 →       4 → 5 → 7 → 10 →

11 → 1 → 9 → 2 → 7 → 3 →  →

2. Мальчик прочитал 30 страниц. Ему осталось прочитать половину того, что он уже прочитал. Сколько страниц в книге? \_\_\_\_\_

3. Коля, Вася и Боря играли в шахматы. Каждый из них сыграл всего 2 партии. Сколько всего партий было сыграно?

4. Пара лошадей пробежала 40 км. Сколько километров пробежала каждая лошадь?

5. Как записать 10 тремя единицами?  
\_\_\_\_\_

6. Пассажир такси ехал в село. По дороге он встретил 5 грузовиков и 3 автомашины. Сколько всего машин ехало в село?

## Классный тур «Знаток математики» 2 класс, январь

1. Заполни пустые клетки

100 → 92 → 84 → 76 →       4 → 5 → 7 → 10 →

11 → 1 → 9 → 2 → 7 → 3 →  →

2. Мальчик прочитал 30 страниц. Ему осталось прочитать половину того, что он уже прочитал. Сколько страниц в книге? \_\_\_\_\_

3. Коля, Вася и Боря играли в шахматы. Каждый из них сыграл всего 2 партии. Сколько всего партий было сыграно?

4. Пара лошадей пробежала 40 км. Сколько километров пробежала каждая лошадь?

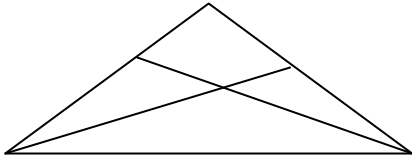
5. Как записать 10 тремя единицами?  
\_\_\_\_\_

6. Пассажир такси ехал в село. По дороге он встретил 5 грузовиков и 3 автомашины. Сколько всего машин ехало в село?

7. Стали вороны садиться на березы по одной — не хватило одной березы. Стали садиться по 2 на березу - одна береза осталась лишняя. Сколько было берез и сколько ворон?

Берез-  ворон-

8. Сосчитай треугольники на рисунке.




\_\_\_\_\_

9. Вера, Оля, Таня пошли в лес по ягоды. Для сбора у них были корзинка, лукошко, ведерко. Известно, что Оля была не с корзинкой и не с лукошком. Вера не с лукошком. Кто что взял для сбора грибов?

10. В автобусе сначала ехали 12 пассажиров. Потом на каждой остановке выходили 4 человека, а входили 6 человек. Сколько пассажиров осталось в автобусе после четырёх остановок?

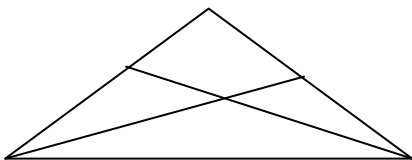
11. Мы нашли 2 сыроежки, 5 лисичек, 3 шишки. Сколько всего грибов мы нашли?



7. Стали вороны садиться на березы по одной — не хватило одной березы. Стали садиться по 2 на березу - одна береза осталась лишняя. Сколько было берез и сколько ворон?

Берез-  ворон-

8. Сосчитай треугольники на рисунке.



\_\_\_\_\_

9. Вера, Оля, Таня пошли в лес по ягоды. Для сбора у них были корзинка, лукошко, ведерко. Известно, что Оля была не с корзинкой и не с лукошком. Вера не с лукошком. Кто что взял для сбора грибов?

10. В автобусе сначала ехали 12 пассажиров. Потом на каждой остановке выходили 4 человека, а входили 6 человек. Сколько пассажиров осталось в автобусе после четырёх остановок?

11. Мы нашли 2 сыроежки, 5 лисичек, 3 шишки. Сколько всего грибов мы нашли?

