

Олимпиада по математике 2 класс ФИ _____

класс _____

1. Найди, по какому принципу записан каждый ряд и продолжи его
а) 18, 17, 20, 15, 22, 13, 24, 11, ..., б) 47, 45, 41, 35, 27, 17, 2б.
2. Реши числовые ребусы
 $*4+6=8*$ $2*+9=*2$ $54-*=*0$ 3б.
-
3. Принесли 9 листов картона. Красных столько же, сколько белых, но больше, чем синих, а зелёных больше, чем белых. Сколько каких листов принесли? 3б.
-
4. Коля сложил два соседних числа. Найди сумму этих чисел, если большее из них – 24. _____ 2б.
5. Шесть пирожных разделили между братьями и сёстрами так, что у сестёр их оказалось вдвое больше, чем у братьев. Сколько у кого? 3б.
-

Олимпиада по математике 2 класс ФИ _____

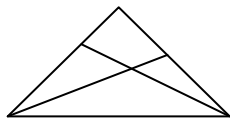
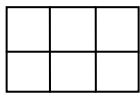
класс _____

1. Найди, по какому принципу записан каждый ряд и продолжи его
а) 18, 17, 20, 15, 22, 13, 24, 11, ..., б) 47, 45, 41, 35, 27, 17, 2б.
2. Реши числовые ребусы
 $*4+6=8*$ $2*+9=*2$ $54-*=*0$ 3б.
-
3. Принесли 9 листов картона. Красных столько же, сколько белых, но больше, чем синих, а зелёных больше, чем белых. Сколько каких листов принесли? 3б.
-
4. Коля сложил два соседних числа. Найди сумму этих чисел, если большее из них – 24. _____ 2б.
5. Шесть пирожных разделили между братьями и сёстрами так, что у сестёр их оказалось вдвое больше, чем у братьев. Сколько у кого? 3б.
-

6. Если $A + B = C$, значит $B + C = A$ $C - B = A$ $B + A = C$ $C - A = B$ 2б.
Подчеркни неверное равенство.

7. У Саши, Маши, Кости, Ольги и Коли 4 яблока и 1 груша. Что было у каждого из детей, если у Маши и Кости были разные фрукты, а Коли и Кости одинаковые?
Саша _____ Маша _____ Костя _____ Ольга _____ Коля _____ 2б.

8. Сосчитай квадраты и треугольники



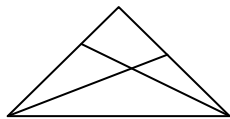
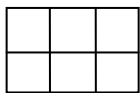
2б.

9. У Вали есть сестра и 2 брата, а у Вити – только 3 брата. Сколько всего детей в двух семьях? _____ 2б.

6. Если $A + B = C$, значит $B + C = A$ $C - B = A$ $B + A = C$ $C - A = B$ 2б.
Подчеркни неверное равенство.

7. У Саши, Маши, Кости, Ольги и Коли 4 яблока и 1 груша. Что было у каждого из детей, если у Маши и Кости были разные фрукты, а Коли и Кости одинаковые?
Саша _____ Маша _____ Костя _____ Ольга _____ Коля _____ 2б.

8. Сосчитай квадраты и треугольники



2б.

9. У Вали есть сестра и 2 брата, а у Вити – только 3 брата. Сколько всего детей в двух семьях? _____ 2б.