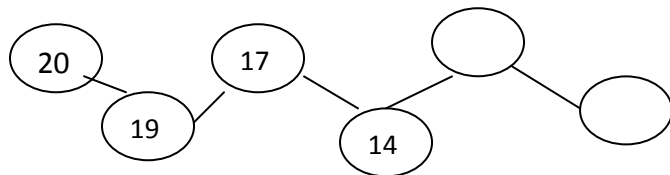


Конкурс «Знатор математики»

1. Продолжи цепочку чисел



2. Расшифруй примеры

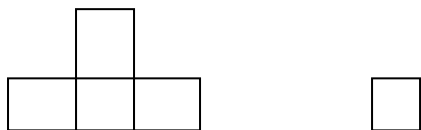
$$A + A = 10$$

--	--	--	--	--	--

$$* + 6 = **$$

--	--	--	--	--	--

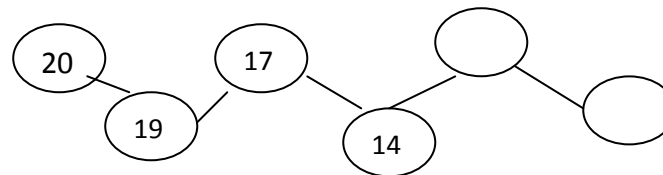
3. Сосчитай прямоугольники (квадрат – тоже прямоугольник)



4. Сколько концов имеет палка?
А половина палки?

Конкурс «Знатор математики»

1. Продолжи цепочку чисел



2. Расшифруй примеры

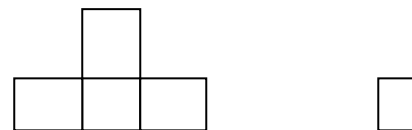
$$A + A = 10$$

--	--	--	--	--	--

$$* + 6 = **$$

--	--	--	--	--	--

3. Сосчитай прямоугольники (квадрат – тоже прямоугольник)



4. Сколько концов имеет палка?
А половина палки?

5. Температура тела человека ниже температуры тела голубя, но выше, чем у слона. У кого из них термометр покажет самую низкую температуру?



6. Мама купила 10 фруктов. Это были груши, яблоки и апельсины. Сколько могло быть разных фруктов, если меньше всего было груш, а больше всего было яблок?

Груши				
Яблоки				
Апельсины				

5. Температура тела человека ниже температуры тела голубя, но выше, чем у слона. У кого из них термометр покажет самую низкую температуру?



5. Мама купила 10 фруктов. Это были груши, яблоки и апельсины. Сколько могло быть разных фруктов, если меньше всего было груш, а больше всего было яблок?

Груши				
Яблоки				
Апельсины				